


平成29年度全国学力・学習状況調査
算数問題Aから

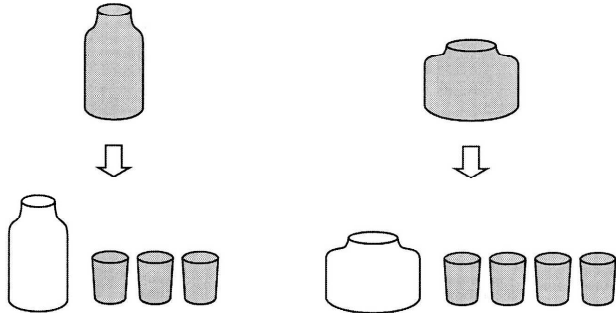
4

森の里小学校正答率 56.4%の問題

次の2つのびんにいっぱいに入れた水のかさを比べます。



2つのびんにいっぱいに入れた水のかさは、同じ大きさのコップに分けて、それぞれコップ何ばい分かで比べることができます。

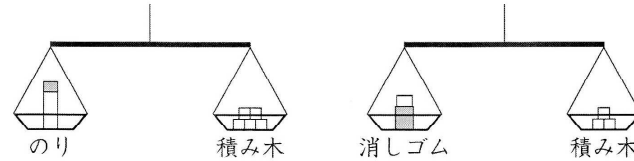


この比べ方と同じように、ものの重さや長さを同じ大きさのいくつかで比べているものは、右の1から4までの中のどれですか。

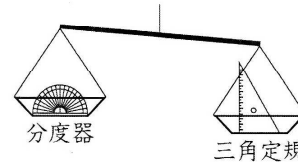
2つ選んで、その番号を書きましょう。

平成29年度に出題された問題から本校児童が改善を図る必要のある「量と測定」に関して出題された問題

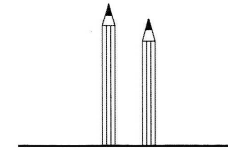
1 のりと消しゴムの重さを、てんびんを使って、同じ重さの積み木の個数で比べます。



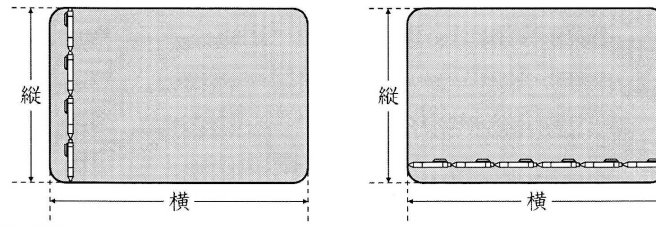
2 分度器と三角定規の重さを、てんびんを使って、どちらにかたむいているかで比べます。



3 2本のえんぴつの長さを、えんぴつのはしをそろえて立て、どちらのえんぴつの先が高いかで比べます。



4 ある机の縦と横の長さを、同じ長さのボールペンの本数で比べます。



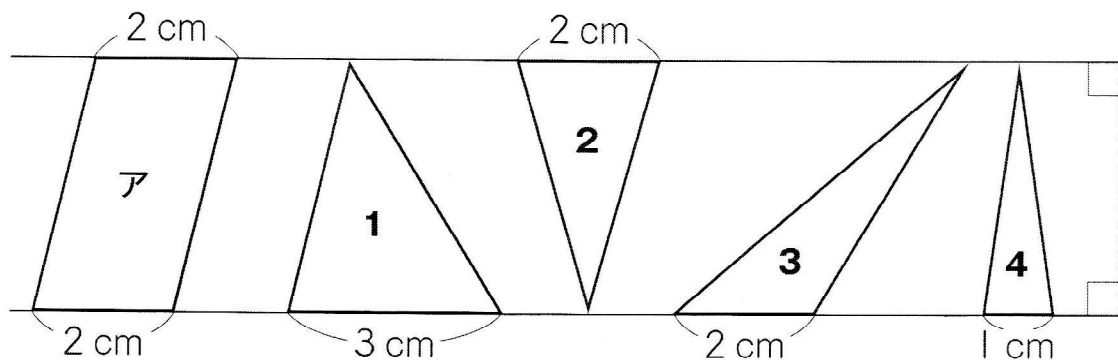
平成29年度に出題された問題から本校児童が改善を図る必要のある「数量や図形についての知識・理解」に関して出題された問題

5

森の里小学校正答率 61.5%の問題

平行な2本の直線を使って、平行四辺形や三角形をかきました。

下の1から4までの三角形の中で、平行四辺形アの面積の、半分の面積であるものはどれですか。すべて選んで、その番号を書きましょう。



平成29年度に出題された問題から本校児童が改善を図る必要のある「数量や図形についての技能」に関して出題された問題

(4) $5 \div 9$ (商を分数で表しましょう。)

森の里小学校正答率 51.3%の問題